

BREVET DE TECHNICIEN SUPÉRIEUR

BANQUE PROFESSIONS IMMOBILIÈRES

ECONOMIE GENERALE ET ECONOMIE D'ENTREPRISE

SESSION 2006

Durée : 3 heures

**Coefficient 2 : BTS Assurance
Coefficient 2 : BTS Banque
Coefficient 3 : BTS Professions immobilières**

Aucun matériel autorisé.

**Dès que le sujet vous est remis, assurez-vous qu'il est complet.
Le sujet comporte 5 pages, numérotées de 1 à 5.**

BREVET DE TECHNICIEN SUPERIEUR – FINANCIERS		
Economie Générale et Economie d'Entreprise	06-ECOGEN	SESSION 2006



PREMIERE PARTIE: TRAVAIL METHODOLOGIQUE (10 points)

À partir de vos connaissances et de l'annexe, vous répondrez aux questions suivantes, sur le thème des déséquilibres de l'économie mondiale :

- 1.1 Décrivez et commentez la tendance générale de l'évolution des échanges mondiaux, au cours de ces quinze dernières années.
- 1.2 Commentez le document 2.
- 1.3 Comparez le niveau de la croissance économique des économies en développement et des économies avancées.
- 1.4 Analysez les situations particulières de la Chine et de l'Inde en utilisant les documents 4, 5, 6 et 7. Quelles explications pouvez-vous en donner? (Structurez votre réponse)

DEUXIEME PARTIE: DEVELOPPEMENT STRUCTURE (10 points)

Dans un développement structuré, vous analyserez si la domination par les coûts est la seule réponse aux nouvelles conditions du marché.

BREVET DE TECHNICIEN SUPERIEUR – FINANCIERS		
Economie Générale et Economie d'Entreprise	06-ECOGEN	SESSION 2006

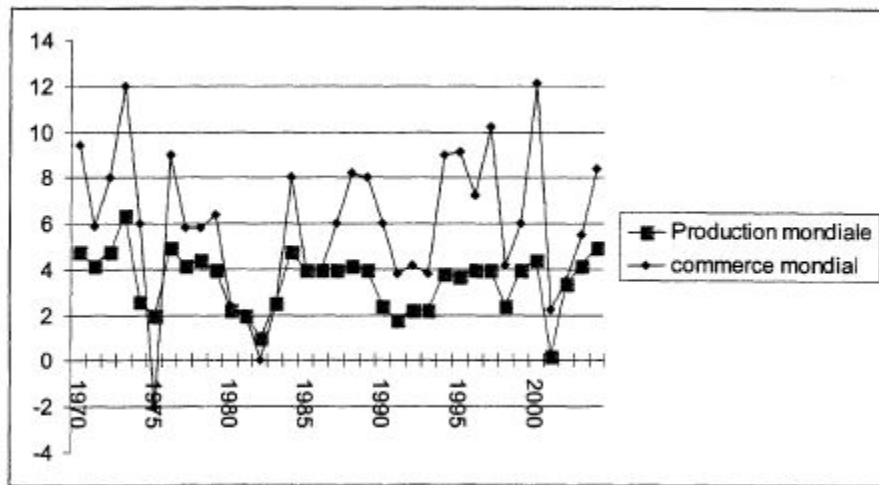


ANNEXE

Source : Alternatives Économiques

Hors série no 62 : les chiffres de l'économie 2005 (parution : 4e trimestre 2004)

Document 1 : Production et commerce mondiaux, variation annuelle % (source FMI)

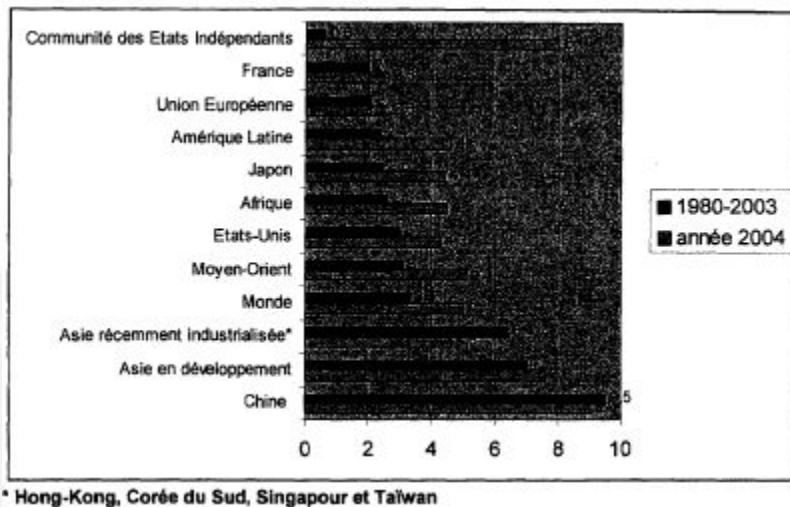


Document 2 : Répartition du PIB mondial en 2003 en parité de pouvoir d'achat (Source FMI)


ÉCONOMIES	PIB/PPA en %
Économies avancées	
Etats-Unis	21,1
Union Européenne	19,9
Japon	7,0
Autres économies avancées	7,5
Économies en développement	
Asie en développement (dont pour la Chine seule)	23,8 (12,6)
Amérique Latine	7,6
Moyen-Orient - Afrique du Nord	3,5
Afrique Subsaharienne	2,5
Autres économies en développement	7,1

Source : FMI

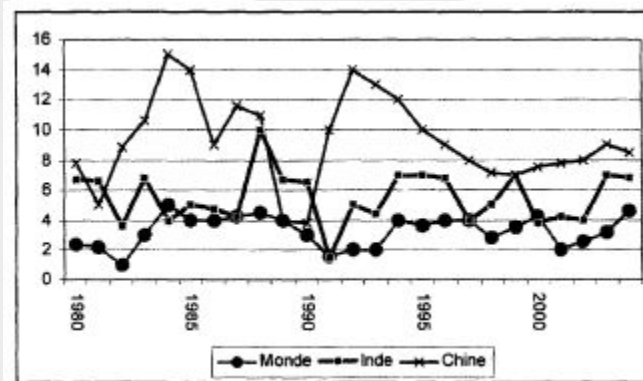
Document 3: Croissance annuelle moyenne 1980-2003 et prévisions 2004 (source FMI)



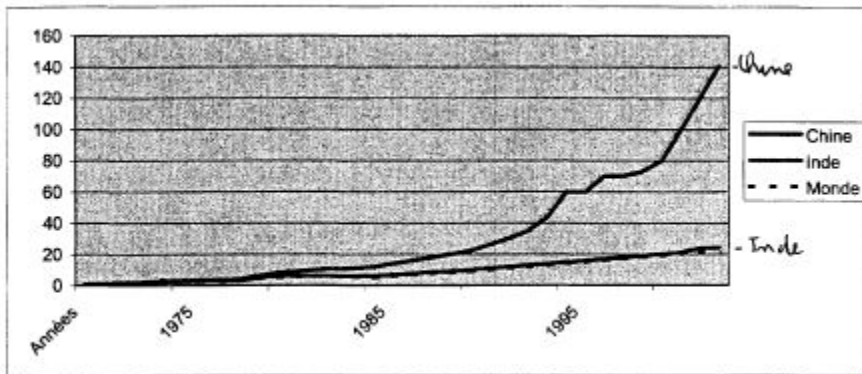
Document 4: Part de la population vivant avec moins de 2 dollars par jour (en%)



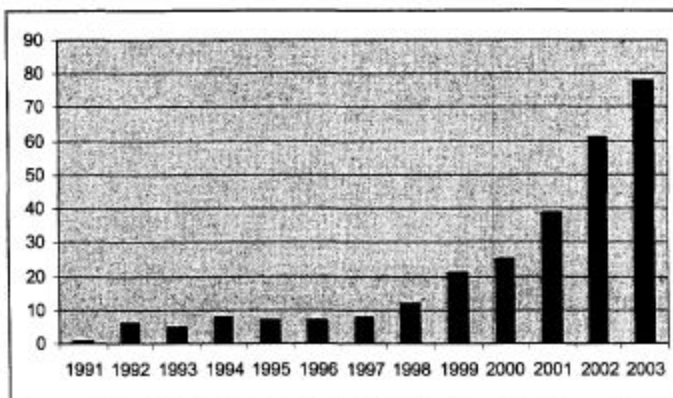
Document 5 : La Chine et l'Inde, croissance du PIB en volume en %



Document 6 : La Chine et l'Inde, croissance des exportations de marchandises (base 1 en 1970) (source Banque Mondiale).



Document 7 : L'Inde, exportations nettes de services en % du déficit des échanges de produits manufacturés (source Banque Mondiale).



Lecture du graphique : l'excédent des exportations des services couvre environ 75 % du déficit des produits manufacturés en 2003, ce pourcentage s'établissait à environ 15 % en 1998.